

1. Mikä on ekosysteemi?

2. Selitä seuraavien eliöitten talvenviettotavat:

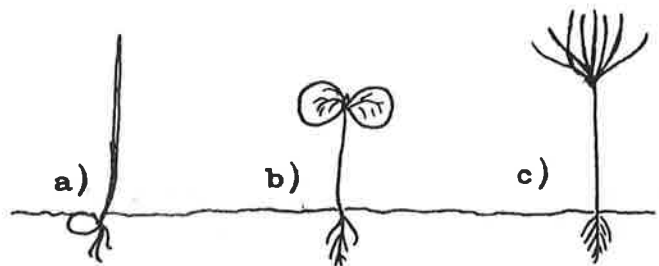
- a) karhu
- b) myyrä
- c) kyy
- d) jänis
- e) uunilintu
- f) yksivuotinen kasvi

3. Kääpäsieni ottaa ravintonsa toisesta kasvista, Millä nimellä kääpäsientä kutsutaan silloin, kun sen isäntänä on

- a) elävä koivu
- b) laho kanto

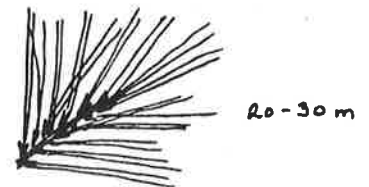
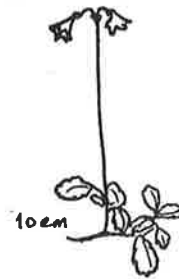
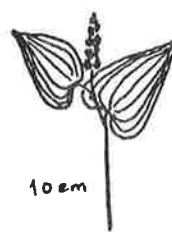
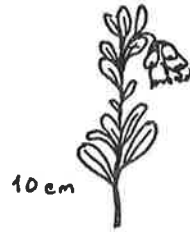
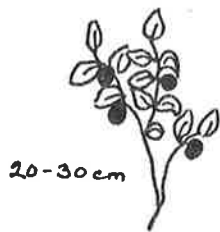
4. Mikä näistä on havupuun taimi?

5. Mistä ruska johtuu?



6. Mitä jäkälät kertovat ilman saastumisesta?

7. Nimeä kasvilajit.



8. Mitä seuraavista saat tehdä toisen omistamassa metsässä? Merkitse X.

\_\_\_ retkeillä

\_\_\_ leiriytyä tilapäisesti

\_\_\_ marjastaa ja sienestää

\_\_\_ ottaa tuolta

\_\_\_ taitella oksia

\_\_\_ tehdä avotulen ilman lupaa

\_\_\_ ajaa mopolla

\_\_\_ heitellä roskia ympäriinsä

9. Kelo on a) uitossa uponnut puu, b) lahoava puu, c) pystyyn kuivunut puu.

10. Mitä on metsän luontainen uudistaminen?

11. Mainitse keinoja, joilla parannetaan metsän tuottoa.

12. Merkitse ja nimeä kuvasta metsurin neljä tärkeintä suojainta.



13. Suomen maapinta-alasta on metsää noin a) 55 %, b) 65 %, c) 75 %.

14. Mitä hyötyä on paperinkeräyksestä?

a)

b)

c)

15. Männyn oksa on tänä vuonna 150 cm:n korkeudella. Kuinka korkealla samainen oksa on kymmenen vuoden kuluttua, jos männyn vuotuinen pituuskasvu on 30 cm

Vastaus \_\_\_\_\_

Tämä metsätietokilpailu oli mielestäni

a) hyvin helppo

b) kohtalaisen helppo

c) melko vaikea

d) hyvin vaikea

KIIITOS OSANOTOSTA!